
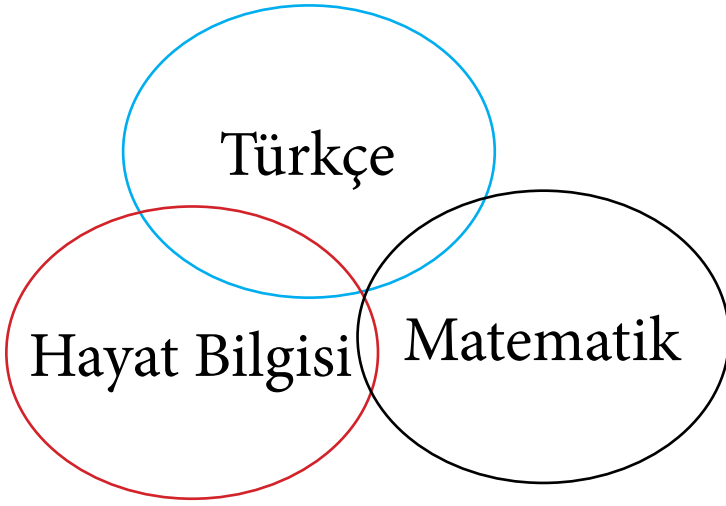


2.Sınıf SINIFÇININ SESİ 10.HAFTA ETKİNLİK PROGRAMI



&



www.sinifcininsesi.com

www.elgityayincilik.com



10.HAFTA

Noktalama İşaretleri

Aşağıda verilen cümleleri uygun noktalama işaretleri ile tamamlayınız.

1. Hakan masanın ayağını kırdı ()

2. Kimse onun burada olduğunu bilmiyordu ()

3. Pazardan elma () armut ve muz aldım ()

4. Onun burada olduğunu bilmiyordum ()

5. Aaa () Neden böyle düşünüyorsunuz ()

Aşağıda verilen alanlara noktalama işaretlerinin görevlerini yazınız.

Nokta

Virgül

Ünlem İşareti

Soru İşareti

Noktalı virgül

İki nokta

Aşağıda verilen kelimeleri cins ve özel isimleri keserek uygun yerlere yapıştırınız.

[Hakan] [koltuk] [Manolya]
[ağaç] [kanepe] [Karabaş]
[Minnoş] [çiçek]
[tablo] [merdiven] [Emine]

Cins isimler

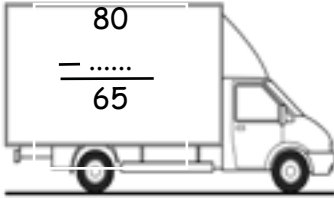
Özel isimler

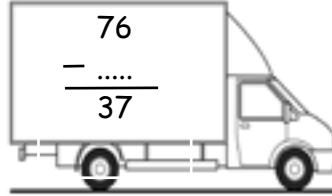


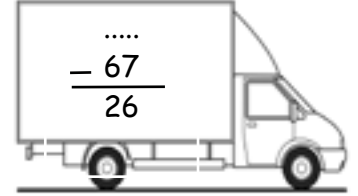
10.HAFTA

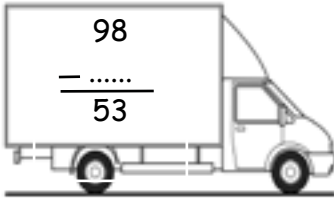
Çıkarma işleminde
verilmeyeni bulma

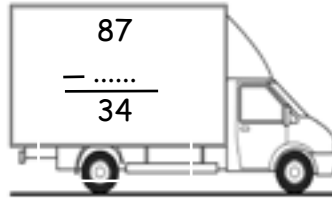
Aşağıda verilen çıkarma işlemlerini yapınız.

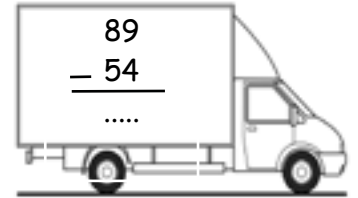

$$\begin{array}{r} 80 \\ - \text{.....} \\ \hline 65 \end{array}$$

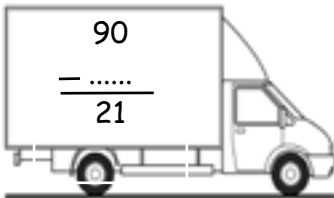

$$\begin{array}{r} 76 \\ - \text{.....} \\ \hline 37 \end{array}$$

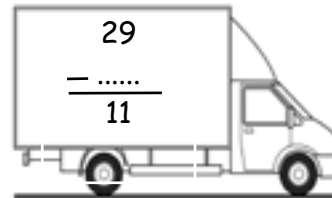

$$\begin{array}{r} \text{.....} \\ - 67 \\ \hline 26 \end{array}$$

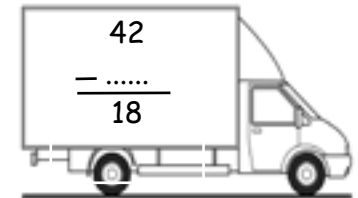

$$\begin{array}{r} 98 \\ - \text{.....} \\ \hline 53 \end{array}$$

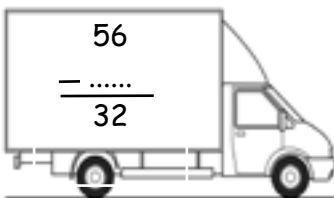

$$\begin{array}{r} 87 \\ - \text{.....} \\ \hline 34 \end{array}$$

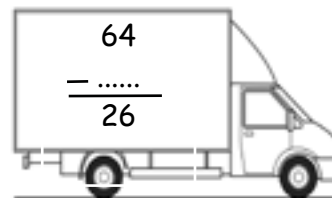

$$\begin{array}{r} 89 \\ - 54 \\ \hline \text{.....} \end{array}$$

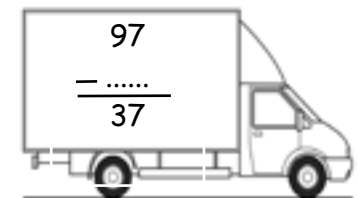

$$\begin{array}{r} 90 \\ - \text{.....} \\ \hline 21 \end{array}$$


$$\begin{array}{r} 29 \\ - \text{.....} \\ \hline 11 \end{array}$$


$$\begin{array}{r} 42 \\ - \text{.....} \\ \hline 18 \end{array}$$


$$\begin{array}{r} 56 \\ - \text{.....} \\ \hline 32 \end{array}$$


$$\begin{array}{r} 64 \\ - \text{.....} \\ \hline 26 \end{array}$$


$$\begin{array}{r} 97 \\ - \text{.....} \\ \hline 37 \end{array}$$

Aşağıda verilen çıkarma işlemlerinde verilmeyeni bulunuz.

$$45 - \dots = 35$$

$$74 - \dots = 52$$

$$43 - \dots = 16$$

$$\dots - 34 = 57$$

$$\dots - 23 = 46$$

$$73 - \dots = 53$$

$$93 - \dots = 76$$

$$\dots - 12 = 62$$

Aşağıda verilen çıkarma işlemlerinde verilmeyeni bulunuz.

$$54 - \text{.....} = 34$$

$$86 - \text{.....} = 43$$

$$\text{.....} - 67 = 32$$

$$54 - \text{.....} = 21$$

$$\text{.....} - 12 = 20$$

$$65 - \text{.....} = 45$$

$$79 - \text{.....} = 31$$

$$\text{.....} - 32 = 65$$

$$76 - \text{.....} = 37$$

$$41 - \text{.....} = 12$$

$$\text{.....} - 10 = 53$$

$$62 - \text{.....} = 22$$

$$88 - \text{.....} = 46$$

$$\text{.....} - 26 = 89$$



10.HAFTA

Akrabalar

Aşağıda verilen noktalı alanları tamamlayınız.

aile

telefonla

sık sık

birlikte

bayramlarda

sorumluluk

saygılı



Akrabalarımızı ziyaret etmeliyiz.



Uzakta olan akrabalarımızı arayabiliriz.



Aile büyüklerimize karşı davranmalıyız.



Aile büyüklerimizi ziyaret etmeyi ihmal etmemeliyiz.



Aile içinde herkesin alması gerekir.



Aile içi kararları almalıyız.



Özel günlerde tüm üyeleri bir arada bulunurlar.

1. Aşağıda verilen cümlelerin hangisinde noktalama işareti yanlış kullanılmıştır?

- A) Yarın okula gidecekmış?
- B) Ben onu hiç görmedim.
- C) Sen daha önce de gelmiştin.

3. Aşağıda verilenlerden hangisi özel isim değildir?

- A) Cumhuriyet okulu
- B) Atatürk lisesi
- C) Okul

$$\begin{array}{r} 89 \\ - 54 \\ \hline \dots \end{array} \quad \begin{array}{r} \dots \\ - 17 \\ \hline \dots \end{array}$$

2. Aşağıda verilen kelimelerden hangisi cins isim değildir?

- A) helikopter
- B) kitap
- C) Çetin

4. Yukarıda verilen çıkarma işleminin sonucu kaçtır?

- A) 18
- B) 19
- C) 20



10.HAFTA

Değerlendirme Testi

5. Aşağıda verilen çıkarma işlemlerinden hangisinin sonucu yanlış verilmiştir?

A) $56 - 23 = 33$

B) $69 - 18 = 51$

C) $94 - 26 = 45$

7. Aşağıda verilen ifadelerden hangisi doğru değildir?

A) Akrabalarımızı sık sık ziyaret etmeliyiz.

B) Önemli günlerde tüm aile üyelerimiz bir arada olmalıyız.

C) Uzaktaki akrabalarımızı telefonla aramamalıyız.

87 -  = 46

Büyüklerimize karşı her zaman olmalıyız.

6. Yukarıda verilen çıkarma işleminde  sembolü ile gösterilen rakam kaçtır?

A) 41

B) 45

C) 43

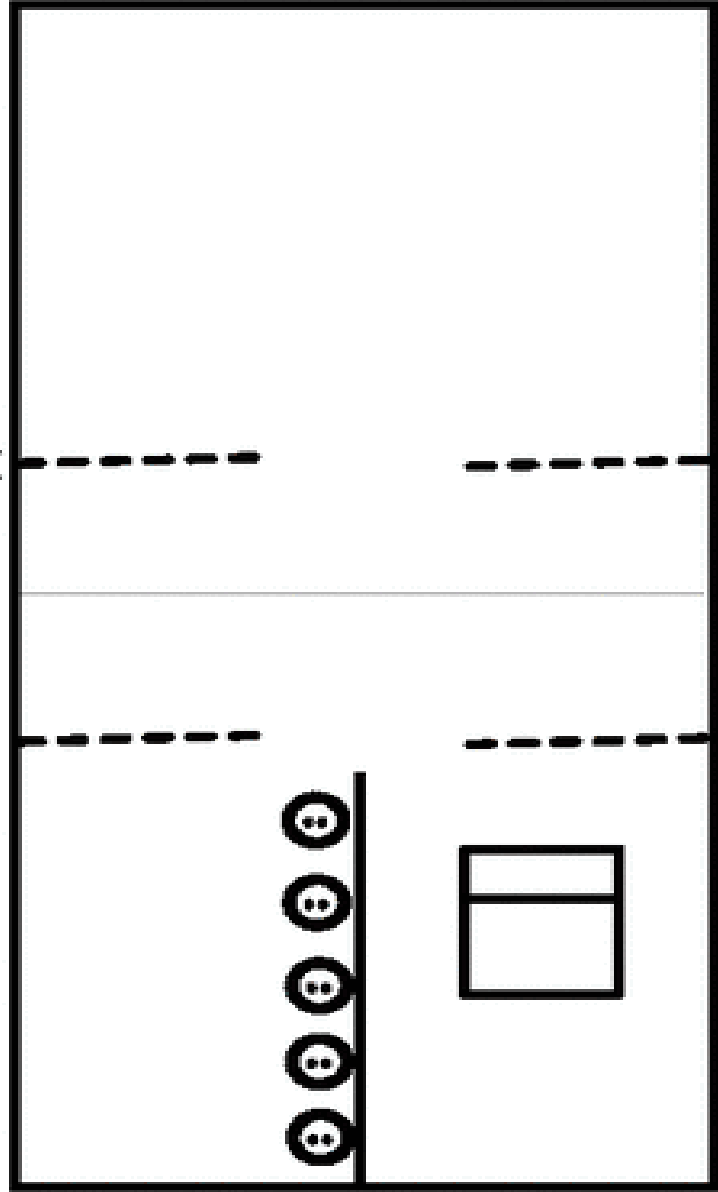
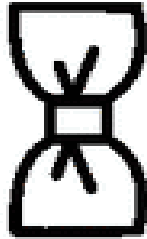
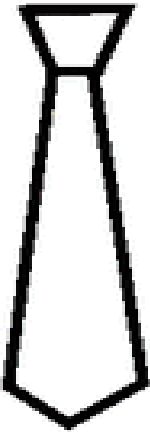
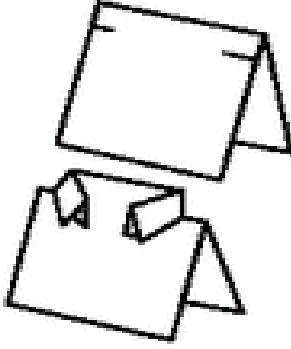
8. Yukarıda verilen noktalı alana aşağıda verilenlerden hangisi gelebilir?

A) saygılı

B) anlayışsız

C) kaba

Aşağıda verilen alanlardan keserek görseldeki nesneyi yapınız.





Y A Y I N C I L I K

Eđitim, Fark Yaratmaktır.

Web: www.elgityayincilik.com

E-posta: bilgi@elgityayincilik.com

İçeriklerimizin tüm hakları tarafımıza aittir. İzinsiz olarak paylaşılması veya çođaltılması 5846 sayılı kanun geređince yasaktır.



elgityayincilik



ilkokulelgityay



elgityaynclik

