
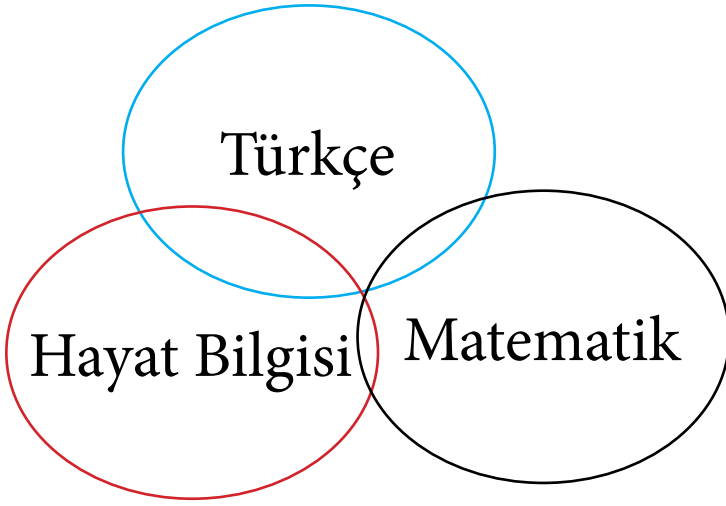


# 2.Sınıf SINIFÇININ SESİ 3.HAFTA ETKİNLİK PROGRAMI



&



[www.sinifcininsesi.com](http://www.sinifcininsesi.com)

[www.elgityayincilik.com](http://www.elgityayincilik.com)



## 3.HAFTA

Harf Bilgisi

Aşağıda verilen harflerin sıralarını yazınız ve noktalı alanları tamamlayınız.

Ç D E F G Ğ

J İ I H

C K L M

B

A R P Ö O N

S Ş T U

Z Y V Ü

Alfabemizde .....  
harf vardır.

Alfabemizde ..... tane  
sesli ve ..... tane sessiz  
harf vardır.

Aşağıda verilen harflerden bir önceki ve bir sonraki harfleri yazınız.

..... H .....	..... G .....	..... S .....
..... V .....	..... J .....	..... P .....
..... E .....	..... Ş .....	..... U .....

Aşağıda verilen kelimelerden eksik bırakılan harfleri tamamlayınız.



p \_ n \_ u \_ e \_ n



\_ o \_ t a \_ a \_



\_ o \_ t \_ c \_



b \_ z \_ \_ l \_ b \_



m \_ k \_ s



\_ i \_ g \_ s \_ \_ \_ r



\_ r \_ \_ \_



\_ i \_ o \_ a t \_



a \_ \_ e \_



ş \_ \_ e \_



b \_ \_ \_ k \_ e \_



\_ \_ \_ e \_



## 3.HAFTA

Alfabeyi Sıralıyorum

Aşağıda verilen kelimeleri sözlükteki sıralarına göre sıralayınız.

otobüs

bilgisayar

kitap

pilot

bilgi

kilim

tramvay

bilim

kilit

telefon

otel

pilav

televizyon

okul

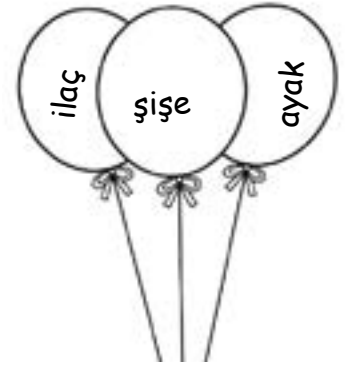
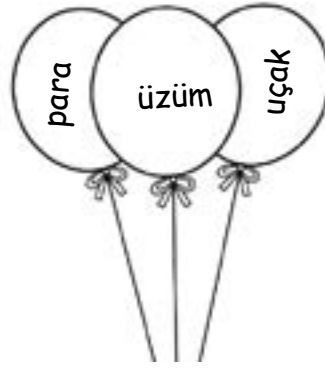
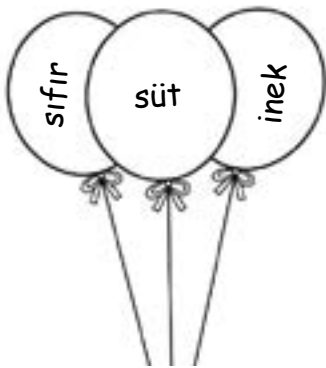
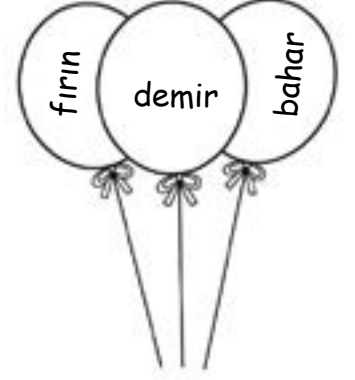
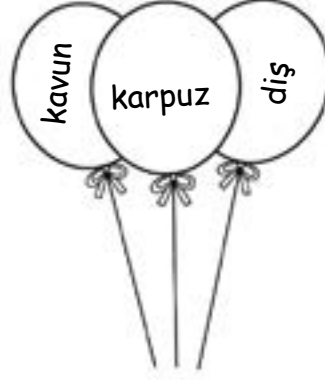
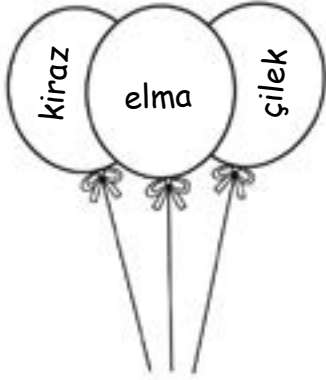
piliç

terlik

köpek

papatya

Aşağıda verilen kelimelerin sözlükteki sıralarına göre sıralayınız. Sözlükte önce gelen kelimeyi maviye, bir sonrakinin kırmızıya, en sonuncuyu yeşile boyayınız.



Aşağıda verilen sayıların basamak değerleri yazınız.

<b>53</b>	Basamak adı	Basamak değeri	<b>45</b>	Basamak adı	Basamak değeri
┆	→ .....	.....	┆	→ .....	.....
┆	→ .....	.....	┆	→ .....	.....
<b>98</b>	Basamak adı	Basamak değeri	<b>27</b>	Basamak adı	Basamak değeri
┆	→ .....	.....	┆	→ .....	.....
┆	→ .....	.....	┆	→ .....	.....

Aşağıda verilen sayıları onluk ve birliklerine göre yazınız.

Onluk	Birlik	Onluk	Birlik	Onluk	Birlik	Onluk	Birlik
┆┆┆	┆	┆┆┆┆	┆	┆┆┆┆	┆	┆┆┆┆	┆
.....	.....	.....	.....	.....	.....	.....	.....
Sayı:.....		Sayı:.....		Sayı:.....		Sayı:.....	

Onluk	Birlik	Onluk	Birlik	Onluk	Birlik	Onluk	Birlik
┆┆	┆	┆┆┆┆┆	┆	┆		┆┆┆┆	┆
.....	.....	.....	.....	.....	.....	.....	.....
Sayı:.....		Sayı:.....		Sayı:.....		Sayı:.....	



## 3.HAFTA

Ritmik Sayma

Aşağıda verilen noktalı alanları uygun sayılarla 1'den 100'e kadar tamamlayınız.

1 - 2 - 3 - 4 - ..... - 6 - ..... - 8 - ..... - 10 - 11 - ..... - 13 - ..... - 15 - 16 - ..... - 18  
- 19 - ..... - 21 - ..... - 23 - 24 - 25 - ..... - 27 - 28 - 29 - ..... - 30 - 31 - 32  
- ..... - 34 - ..... - 36 - 37 - 38 - ..... - 39 - 40 - ..... - 42 - 43 - 44 - ..... - 46  
- ..... - 48 - 49 - ..... - 51 - 52 - 53 - ..... - 55 - 56 - ..... - 58 - ..... - 60 - 61  
- 62 - 63 - ..... - 65 - 66 - ..... - 68 - 69 - ..... - 71 - 72 - ..... - 74 - 75 - 76 -  
..... - 78 - 79 - ..... - ..... - 82 - ..... - 84 - 85 - ..... - 87 - 88 - ..... - 90 - 91  
- 92 - ..... - 94 - 95 - ..... - 97 - ..... - 99 - .....

2 - 4 - 6 - ..... - 10 - 12 - 14 - ..... - 18 - 20 - 22 - ..... - 24 - 26 - 28 - 30 - 32  
- ..... - 36 - 38 - 40 - ..... - 44 - 46 - 48 - 50 - ..... - 54 - 56 - 58 - 60 - .....  
- 64 - 66 - ..... - 70 - 72 - 74 - ..... - 78 - 80 - ..... - 84 - 86 - 88 - ..... - 92 -  
94 - 96 - ..... - 100

5 - ..... - 15 - ..... - 25 - ..... - 35 - ..... - 45 - ..... - 55 - ..... - 65 - ..... - ..... -  
80 - ..... - ..... - 100

Aşağıda verilen noktalı alanları 3'er 3'er ritmik sayarak tamamlayınız.

3

.....

.....

.....

.....

18

.....

.....

.....

.....

Aşağıda verilen noktalı alanları 4'er 4'er ritmik sayarak tamamlayınız.

4

.....

.....

.....

.....

24

.....

.....

.....

.....

Aşağıda verilen noktalı alanları 100'den geriye doğru 5'er 5'er sayarak tamamlayınız.

100

.....

.....

.....

.....

75

.....

60

.....

60

.....

.....

45

40

35

.....

25

.....

.....

.....

5



## 3.HAFTA

İstek ve İhtiyaçlarımız

**İstek:** Kişinin bir eşyaya veya duruma yönelik duymuş olduğu ilgidir. Kişilerin isteklerinin karşılanması sonucunda mutlu olurlar.

**İhtiyaç:** Kişinin bir eşyaya veya duruma yönelik duymuş olduğu zorunluluktur. Kişilerin bu ihtiyaçları karşılaması zorunludur.

Aşağıda verilenlerden istek olanları **kırmızıya** ihtiyaç olanları **maviye** boyayınız.





1. Aşağıda verilen kelimelerden hangisi sözlükte diğerlerinden önce gelmektedir?

- A) okul
- B) otobüs
- C) otel

3. Aşağıda verilen kelimelerin hangisinin sözlükteki sıralaması ile ilgili yanlışlık yapılmıştır?

- A) liman - limon - leman
- B) akıl - araba - aslan
- C) bilgisayar - bilim - bilişim

2. Aşağıda verilenlerden hangisi sözlükte diğerlerinden daha önce yer alır?

A)



B)



C)



45 - 49 - 53 - 57 - .... - 65

4. Yukarıda verilen ritmik saymaya göre noktalı alana aşağıdakilerden hangisi gelmelidir?

- A) 59
- B) 60
- C) 61



## 3.HAFTA

Değerlendirme Testi

5. Aşağıda verilenlerden hangisinde 20 den başlayıp geriye doğru birer birer ritmik sayarken yanlışlık yapılmıştır?

A) 20 - 19 - 18 - 17 - 16

B) 15 - 14 - 13 - 12 - 14

C) 10 - 9 - 8 - 7 - 6 - 5

7. Aşağıda verilenlerden hangisinde 3 er 3 er ritmik saymada hata yapılmıştır?

A) 44 - 47 - 50 - 53 - 56

B) 23 - 26 - 29 - 32 - 35

C) 64 - 67 - 72 - 75 - 78

35 - 45 - 55 - ..... - 75 - 85

24 - 28 - 32 - ..... - 40 - 44

47 - 50 - ..... - 56 - 59 - 62

I  
100 - 99 - 98 - 97 - 96 - 95 - 94 - 93 -  
II  
92 - 91 - 90 - 91 - 89 - 88 - 87 - 86  
III

6. Yukarıda verilen ritmik saymalara göre eksik bırakılan alanları tamamlayınız?

A) 65 - 36 - 53

B) 66 - 37 - 54

C) 64 - 33 - 53


8. 100 den geriye doğru birer birer ritmik sayan Ozan hangi aşamada yanlış yapmıştır?

A) I

B) II

C) III

13 Aşağıda verilenlerden hangisi bir ihtiyaç değildir?



15 Arkadaşlarımızla birlikte çalışırken doğru bir davranış değildir?

A) Arkadaşlarımızla birlikte çalışırken birbirimizin görüşlerine saygı duymalıyız.

B) Grup içerisinde herkesin eşit sorumluluk almasını sağlamalıyız.

C) Arkadaşlarımızdan birisinin tüm sorumluluğu yapmasını istemeliyiz.

14 Aşağıda verilen nesnelerin hangisi okul çantasında bulunmaz?

A) kalem

B) oyuncak bebek

C) kitap

Pazartesi
Matematik
Matematik
Türkçe
Türkçe
Hayat Bilgisi
Müzik

16 Yukarıda bir öğrencinin pazartesi günü ders programı verilmiştir. Buna göre bu öğrencinin aşağıda verilenlerden hangisini çantasına koymasına gerek yoktur?

A) Cetvel

B) Boya kalemi

C) Flüt



## 3.HAFTA

Serbest Etkinlik

Aşağıda verilen şekilleri birleştirerek tavuk görselini oluşturarak boyayınız.

