
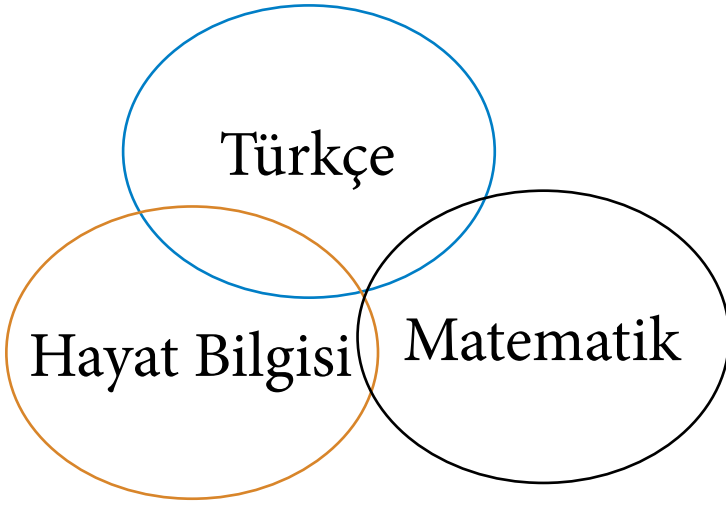


2.Sınıf SINIFÇININ SESİ 33.HAFTA ETKİNLİK PROGRAMI



&



www.sinifcininsesi.com

www.elgityayincilik.com

Aşağıda verilen noktalama işaretlerine örnek cümle yazınız.

o
o



.....
.....

?



.....
.....

!



.....
.....

o



.....
.....

o



.....
.....

o
o



.....
.....


o






.....
.....

Aşağıda verilen tekil ve çoğul kelimeleri kesip yapıştırınız.

TEKİL KELİMELER		ÇOĞUL KELİMELER	



Aşağıda verilen çetele tablosuna göre verilen soruları cevaplayınız.




SPOR ÇETELE TABLOSU	
	
	
	

★ Basketbol oynayan kaç kişi vardır?
.....

★ Voleybol oynayan kaç kişi vardır?
.....

★ Futbol oynayan kaç kişi vardır?
.....

Aşağıda verilen çetele tablosuna göre soruları cevaplayınız.

Ağaç türü	Sayısı
	
	
	



Ağaç sayısı kaç tanedir?



Ağaç sayısı kaç tanedir?



Ağaç sayısı kaç tanedir?

Aşağıda verilen çetele tablosunu dikkate alarak soruları cevaplayınız.(Her görsel 2 çiçeği göstermektedir.)

Kişi	Çiçek sayısı
Berk	
Nil	
Hakan	

1- Hakan' nın kaç tane çiçeği vardır?

.....

2- Berk her çiçek için 4 lira ödediğine göre toplam ne kadar öder?

.....

3- Nil'in kaç çiçeği vardır?

.....

3- En az çiçeği olan kimdir?

.....

Aşağıda verilen birimlerin uzunluk ölçüsünü yazınız.



Ayçiçeği
ataç boyundadır.



İnsanın boyu
ataç boyundadır.



Armut
ataç boyundadır.



Ayçiçeği
ataç boyundadır.

1. Aşağıda verilen cümlelerin hangisinde çoğul bir kelime kullanılmıştır?

- A) Yarın buraya gelecekmiş.
B) Poşetin içinde elmalar varmış.
C) Ödevini akşam bitirmiş.

1 Otobüs ne zaman gelecek?

2 Çilekleri dolaba koymuş!

3 Hasta, doktoru bekledi.

2. Yukarıda numaralı olarak verilen cümlelerin hangisinde bir noktalama yanlışlığı yapılmıştır?

- A) 1 B) 2 C) 3

3. Aşağıda verilen kelimelerden hangisi topluluk bir isimdir?

- A) ordu
B) otobüs
C) okul

Bir manavda satılan ürünlerin miktarı verilmektedir. (Her şekil 3 tane olarak gösterilmektedir.)

Meyve	Satılan miktar
Çilek	
Elma	
Karpuz	

Yukarıda verilen tabloyu dikkate alarak 4, 5 ve 6. soruları cevaplayınız.

4. Tabloya göre en fazla meyve aşağıdakilerden hangisidir?

- A) Elma
B) Karpuz
C) Çilek

5. Tabloya göre en az meyve sayısı kaç tanedir?

- A) 6 B) 8 C) 12

7. Aşağıda verilen ürünlerden hangisinin geri dönüşümü yapılamaz?

- A) Meyve
B) Pil
C) Pet şişe

6. Tabloya göre en fazla en az meyve sayısı arasındaki fark kaçtır?

- A) 9 B) 4 C) 6


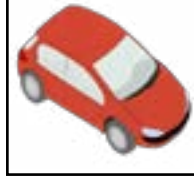
8. Aşağıda verilen ifadelerden hangisi yanlıştır?

- A) Geri dönüşümü yapılan ürünler kullanmayı tercih etmemeliyiz.
B) Geri dönüşüm ile doğal çevrenin korunmasına destek oluruz.
C) Atık piller geri dönüşümü yapılan ürünlerdir.



Cevap Anahtarı : 1 - B 2 - B 3 - A 4 - B 5 - A 6 - C 7 - A 8 - A

Aşağıda verilen sudokunda eksik bırakılan öğeleri her satır ve sütünde birer kez kullanarak yerleştiriniz.





Y A Y I N C I L I K

Eđitim, Fark Yaratmaktır.

Web: www.elgityayincilik.com

E-posta: bilgi@elgityayincilik.com

İçeriklerimizin tüm hakları tarafımıza aittir. İzinsiz olarak paylaşılması veya çođaltılması 5846 sayılı kanun geređince yasaktır.



elgityayincilik



ilkokulelgityay



elgityaynclik

