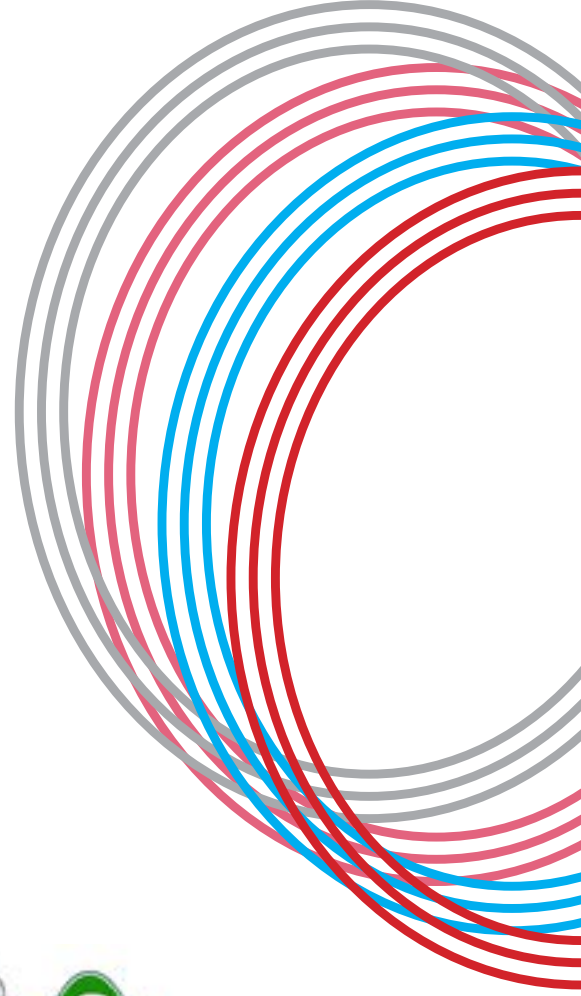
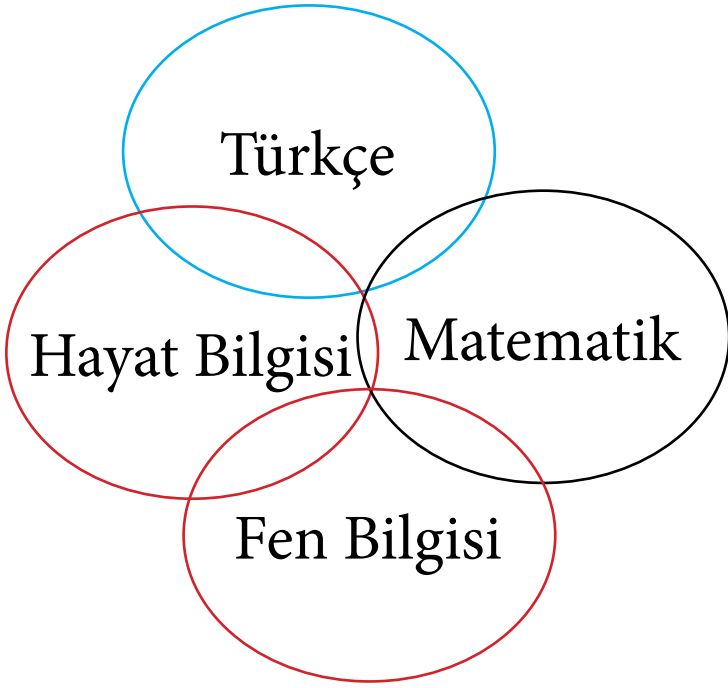


3.Sınıf SINIFÇININ SESİ 10.HAFTA ETKİNLİK PROGRAMI



&



www.sinifcininsesi.com

www.elgityayincilik.com



10.HAFTA

Yapım ve Çekim
Ekleri

Aşağıda verilen cümleleri uygun eklerle tamamlayınız.

	Yapım eki	Çekim eki		Yapım eki	Çekim eki
şeker	koş
kap	sık
kitap	gece
el	kir
yaz	yalan

Aşağıda verilen kelimelerden fiil kökü olanlara F isim kökü olanlara İ yazınız.

kaz	<input type="checkbox"/>	limon	<input type="checkbox"/>	kaz	<input type="checkbox"/>
gör	<input type="checkbox"/>	portakal	<input type="checkbox"/>	çok	<input type="checkbox"/>
çiçek	<input type="checkbox"/>	ekşi	<input type="checkbox"/>	gir	<input type="checkbox"/>
fakir	<input type="checkbox"/>	kir	<input type="checkbox"/>	göz	<input type="checkbox"/>
konuş	<input type="checkbox"/>	otobüs	<input type="checkbox"/>	sar	<input type="checkbox"/>
fikir	<input type="checkbox"/>	perde	<input type="checkbox"/>	pembe	<input type="checkbox"/>
zehir	<input type="checkbox"/>	cam	<input type="checkbox"/>	öykü	<input type="checkbox"/>

Aşağıda verilen noktalı alanları doldurunuz.

	Belirtme hali	Yönelme hali	Bulunma hali	Ayrılma hali
Aslan
kalem
armut
halı
limon
kral
ıslak
masa
il
Adana
hatıra
Okan



10.HAFTA

Problemler

Aşağıda verilen problemlerini yapınız.

→ Bir çıkarma işleminde çıkan sayılardan biri 345 ve fark 634 ise diğer sayı kaçtır?

→ Bir çıkarma işleminde fark 589'dur. Çıkan sayı 234 azaltılırsa yeni fark kaç olur?

→ Bir çıkarma işleminde eksilen sayı 985 çıkan sayı 345 olduğuna göre fark kaçtır?

→ Bir çıkarma işleminde eksilen sayı 945 fark 643 olduğuna göre çıkan sayı kaçtır?

→ Bir toplama işleminde toplananlardan biri 654 diğeri 252 olduğuna göre sonuç kaçtır?

→ 546 sayısının basamak değerleri ile sayı değerleri arasındaki fark kaçtır?

→ 653 sayısının 234 eksiğinin 534 fazlası kaçtır?

→ Mağazadan 358 liraya pantolon, 432 liraya gömlek, 125 liraya kravat alan birisi mağazaya toplam ne kadar öder?

Aşağıda verilen problemlerini yapınız.

→ Bir sınıftaki erkek öğrenci sayısı 12'dir. Kız öğrencilerin sayısı erkek öğrencilerin sayısından 7 fazla olduğuna göre sınıf mevcudu kaçtır?

→ Bir toplama işleminde 1.toplanan 435 2. toplanan 1. toplanandan 235 fazla olduğuna göre sonuç kaçtır?

→ Bir çıkarma işleminde eksilen sayı 987 çıkan sayı 423 olduğuna göre fark kaçtır?

→ Bir çıkarma işleminde fark 324'dür. Eksilen sayı 53 artırılır çıkan sayı 42 azaltılırsa yeni fark kaçtır?

→ Bir çıkarma işleminde eksilen sayı 645 ve çıkan sayı 23 azaltılırsa fark kaç olur?

→ Bir toplama işleminde toplam 645, toplananlardan biri 234 olduğuna göre diğer toplanan kaçtır?

→ Çıkan sayı 534 eksilen sayı 986 olduğuna göre fark kaçtır?

→ 1.toplanan sayı 435 2. toplanan sayı ise 1. toplanan sayıdan 345 fazla olduğuna göre toplam kaçtır?



10.HAFTA

Hareketli cisimler

Aşağıda verilen ifadelerden doğru olanlara D yanlış olanlara Y yazınız.

1. Elektrikli aletleri kullanırken büyüklerimizden yardım istemeliyiz.
2. Kettle içinde kaynayan suyu metal kaşıkla karıştırabiliriz.
3. Yayalara yeşil yanmadan karşıdan karşıya geçmemeliyiz.
4. Elektrik prizini çıplak elle kontrol etmemeliyiz.
5. Denizde arkadaşlarımızla oyunlar oynayabiliriz.


Aşağıda görselleri verilen nesnelerin güvenli kullanılmamaları durumunda olabilecek tehlikeleri yazınız.



Aşağıda verilen ifadelerden bir ev adresinde bulunması gerekenleri işaretleyiniz.

- Sokak no Apartman adı Blok adı İl/İlçe
Kapı no İsmim Oda sayısı Okul no

Aşağıda verilen ev görselini düşünerek evinizin çevresini çiziniz.





10.HAFTA

Değerlendirme Testi

1. Aşağıda verilenlerden hangisi hal eki değildir?

- A) -e B) -den C) -ler

3. "şeker" kelimesine aşağıda verilen eklerden hangisi eklenirse sözcüğün anlamında değişme meydana gelir?

- A) -e B) -lik C) -de

Annesi ona yeni bir kalem almıştı.

2. Yukarıda verilen cümlede boş bırakılan noktalı alana aşağıda verilen eklerden hangisi getirilebilir?

- A) -li B) -lik C) -siz

4. Bir çıkarma işleminde eksilen sayı 658 çıkan sayı 342 ise fark kaçtır?

- A) 432 B) 316 C) 348

5. Bir okuldaki erkek öğrencilerin sayısı 269'dur. Kız öğrencilerin sayısı erkek öğrencilerin sayısından 167 daha fazla olduğuna göre okul mevcudu kaçtır?

- A) 705 B) 709 C) 712

7. Aşağıda verilenlerden hangisi elektrikli aletler ile ilgili doğru bir ifade değildir?

A) Elektrikli aletleri kullanırken kablolarının yıpranmış olmamasına dikkat etmeliyiz.

B) Elektrikli aletler çalışırken motor kısmını elimizle kontrol etmemeliyiz.

C) Elektrik aletlerini çalışır haldeyken tamir edebiliriz.

6. Bir toplama işleminde toplananlardan birisi 412 diğer toplanan 328 olduğuna göre sonuç kaçtır?

- A) 740 B) 720 C) 750

8. Aşağıda verilenlerden hangisi bir ev adresinde bulunması gereken alanlardan birisi değildir?

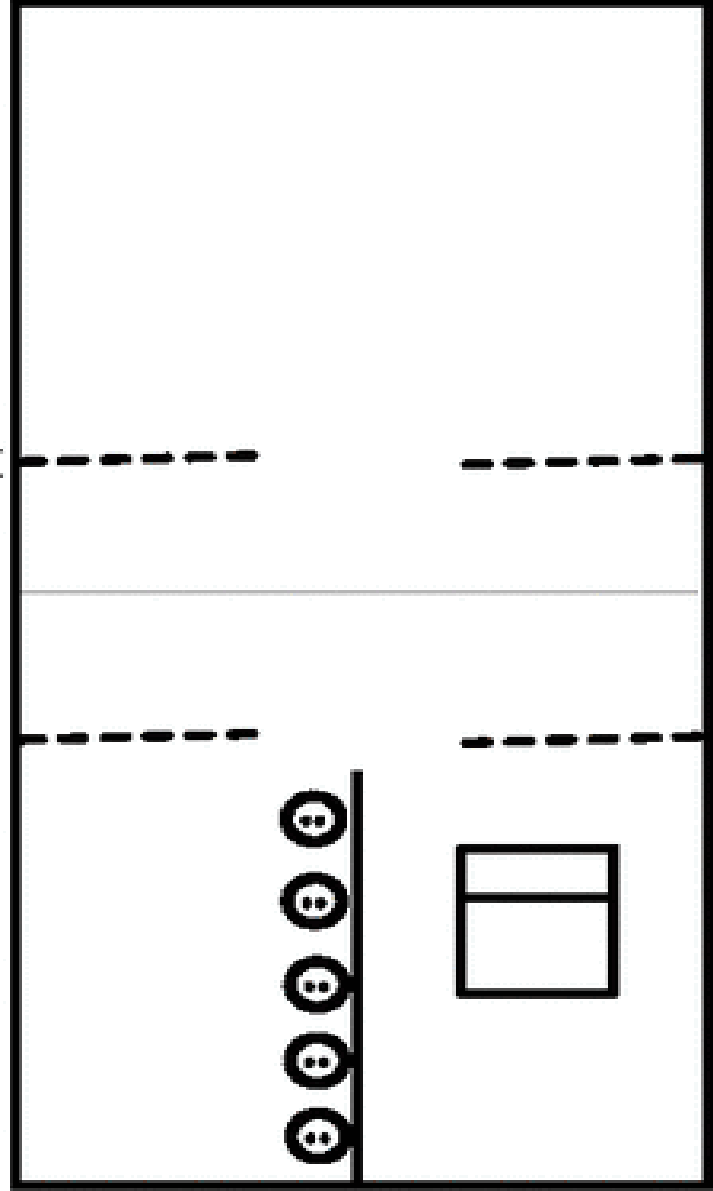

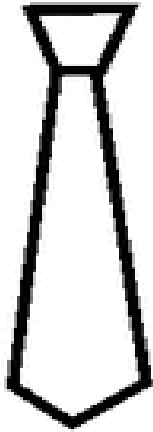
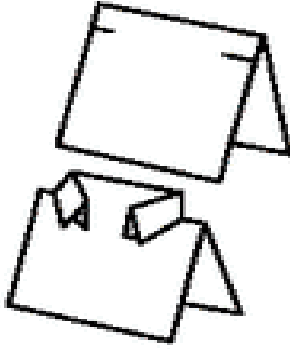
- A) Kapı no
B) Sokak no
C) Komşu adı



10.HAFTA

Serbest Etkinlik

Aşağıda verilen alanlardan keserek görseldeki nesneyi yapınız.





Y A Y I N C I L I K

Eđitim, Fark Yaratmaktır.

Web: www.elgityayincilik.com

E-posta: bilgi@elgityayincilik.com

İşeriklerimizin tüm hakları tarafımıza aittir. İzinsiz olarak paylaşılması veya çođaltılması 5846 sayılı kanun geređince yasaktır.



elgityayincilik



ilkokulelgyay



elgityaynelk

